

Вариант № 9279658**1. Задание 1 № 509626**

Найдите значение выражения $\left(\frac{7}{8} - \frac{17}{12}\right) : \frac{5}{12}$.

2. Задание 2 № 509747

Найдите значение выражения $\frac{8^{11} \cdot 32^{-2}}{47}$.

3. Задание 3 № 77365

Держатели дисконтной карты книжного магазина получают при покупке скидку 5%. Книга стоит 200 рублей. Сколько рублей заплатит держатель дисконтной карты за эту книгу?

4. Задание 4 № 511000

Мощность постоянного тока (в ваттах) вычисляется по формуле $P = I^2 R$, где I — сила тока (в амперах), R — сопротивление (в омах). Пользуясь этой формулой, найдите мощность P (в ваттах), если сопротивление составляет 14 Ом, а сила тока равна 4 А.

5. Задание 5 № 511415

Найдите $\cos x$, если $\sin x = -0,8$ и $180^\circ < x < 270^\circ$.

6. Задание 6 № 77339

Каждый день во время конференции расходуется 70 пакетиков чая. Конференция длится 6 дней. Чай продается в пачках по 50 пакетиков. Сколько пачек нужно купить на все дни конференции?

7. Задание 7 № 26657

Найдите корень уравнения $\log_4(x+3) = \log_4(4x-15)$.

8. Задание 8 № 506554

Участок земли имеет прямоугольную форму. Стороны прямоугольника 25 м и 70 м. Найдите длину забора (в метрах), которым нужно огородить участок, если в заборе нужно предусмотреть ворота шириной 4 м.

**9. Задание 9 № 506352**

Установите соответствие между величинами и их возможными значениями: к каждому элементу первого столбца подберите соответствующий элемент из второго столбца.

ВЕЛИЧИНЫ	ВОЗМОЖНЫЕ ЗНАЧЕНИЯ
А) масса куриного яйца	1) 2,5 мг
Б) масса детской коляски	2) 14 кг
В) масса взрослого бегемота	3) 50 г
Г) масса активного вещества в таблетке	4) 3 т

В таблице под каждой буквой, соответствующей величине, укажите номер её возможного значения.

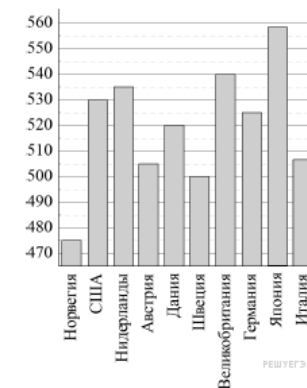
А	Б	В	Г

10. Задание 10 № 282856

В среднем из 1000 садовых насосов, поступивших в продажу, 5 подтекают. Найдите вероятность того, что один случайно выбранный для контроля насос не подтекает.

11. Задание 11 № 505139

На диаграмме показан средний балл участников 10 стран в тестировании учащихся 4-го класса, по математике в 2007 году (по 1000-балльной шкале). По данным диаграммы найдите число стран, в которых средний балл ниже, чем в Нидерландах.



12. Задание 12 № 510120

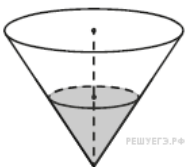
В нескольких эстафетах, которые проводились в школе, команды показали следующие результаты:

Команда	I эстафета, баллы	II эстафета, баллы	III эстафета, баллы
«Непобедимые»	4	4	1
«Прорыв»	1	2	3
«Чемпионы»	2	1	2
«Тайфун»	3	3	4

При подведении итогов для каждой команды баллы по всем эстафетам суммируются. Побеждает команда, набравшая наибольшее количество баллов. Какое итоговое место заняла команда «Чемпионы»?

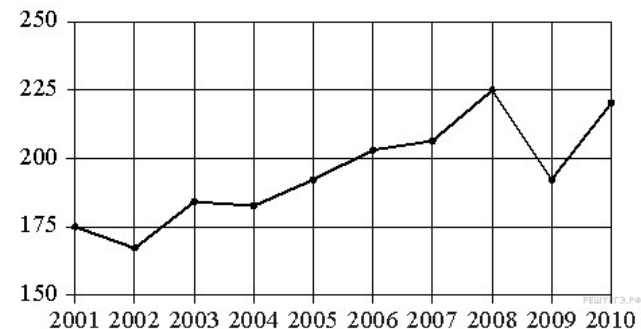
13. Задание 13 № 510749

В сосуде, имеющем форму конуса, уровень жидкости достигает $\frac{1}{2}$ высоты. Объём сосуда 1400 мл. Чему равен объём налитой жидкости? Ответ дайте в миллилитрах.



14. Задание 14 № 510154

На рисунке точками показан годовой объём добычи угля в России открытым способом в период с 2001 по 2010 год. По горизонтали указывается год, по вертикали — объём добычи угля в миллионах тонн. Для наглядности точки соединены линиями.



Пользуясь рисунком, поставьте в соответствие каждому из указанных периодов времени характеристику добычи угля.

ПЕРИОДЫ ВРЕМЕНИ

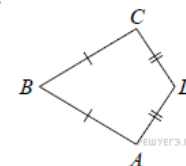
- А) 2001–2003 гг.
- Б) 2003–2005 гг.
- В) 2005–2007 гг.
- Г) 2007–2009 гг.

ХАРАКТЕРИСТИКИ

- 1) в течение периода объёмы добычи сначала росли, а затем стали падать
- 2) объём добычи в этот период рос с каждым годом
- 3) период с минимальным показателем добычи за 10 лет
- 4) годовой объём добычи составлял больше 175 млн т, но меньше 200 млн т

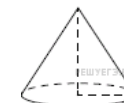
15. Задание 15 № 509700

В выпуклом четырёхугольнике ABCD известно, что $AB = BC$, $AD = CD$, $\angle B = 32^\circ$, $\angle D = 94^\circ$. Найдите угол A . Ответ дайте в градусах.



16. Задание 16 № 506339

Объём конуса равен 50π , а его высота равна 6. Найдите радиус основания конуса.



17. Задание 17 № 510903

На координатной прямой отмечены точки A, B, C, D (см. рисунок).



Число m равно $\log_3 5$.

Установите соответствие между указанными точками и числами в правом столбце, которые им соответствуют.

Точки	Числа
A	1) $6 - m$
B	2) m^2
C	3) $-\frac{2}{m}$
D	4) $m - 1$

В приведенной ниже таблице под каждой буквой, обозначающей точку, укажите номер соответствующего ей числа.

A	B	C	D

18. Задание 18 № 510187

Перед баскетбольным турниром измерили рост игроков баскетбольной команды города N. Оказалось, что рост каждого из баскетболистов этой команды больше 180 см и меньше 195 см. Выберите утверждения, которые верны при указанных условиях.

- 1) В баскетбольной команде города N обязательно есть игрок, рост которого равен 200 см.
- 2) В баскетбольной команде города N нет игроков с ростом 179 см.
- 3) Рост любого баскетболиста этой команды меньше 195 см.
- 4) Разница в росте любых двух игроков баскетбольной команды города N составляет более 15 см.

В ответе запишите номера выбранных утверждений без пробелов, запятых и других дополнительных символов.

19. Задание 19 № 509764

Найдите четырёхзначное число, кратное 88, все цифры которого различны и чётны. В ответе укажите какое-нибудь одно такое число.

20. Задание 20 № 513745

Миша, Коля и Лёша играют в настольный теннис: игрок, проигравший партию, уступает место игроку, не участвовавшему в ней. В итоге оказалось, что Миша сыграл 10 партий, а Коля — 21. Сколько партий сыграл Лёша?